

Limba română



- 1** Înainte să plece în pădure, capra din poveste i-a sfătuit pe cei trei iezi să o recunoască după:
A) glas B) haine C) înălțime



- 2** Ce făcea lupul în timp ce capra vorbea cu iezi?
A) Se uita prin gaura cheii.
B) Asculta în spatele casei.
C) Se ascundea în horn.

- 3** Cum era baba din povestea „Punguța cu doi bani”?
A) iubitoare și darnică
B) flămândă
C) foarte zgârcită



- 4** Ce a pățit boierul după ce i-a luat punguța cocoșului?
A) a mâncat cocoșul fript
B) a rămas fără bani și animale
C) a făcut o mare petrecere

- 5** Unde s-a ascuns vulpea din poveste pentru a scăpa de furia ursului pe care l-a păcălit?
A) în scorbura unui copac
B) în bârlogul ursului
C) în cotețul găinilor

- 6** Când fata moșneagului din poveste se întoarce acasă, fata babei:
A) se ascunde în casă
B) se bucură
C) pleacă și ea după bogății



- 7** De ce refuză omul leneș din poveste posmagii oferite de cucoana miloasă?
A) Nu îi plăceau posmagii.
B) Îi era lene să îi mestece.
C) Erau prea puțini.


- 8** Cum l-a învățat omul din „Prostia omenească” pe rotar să scoată carul din casă?
A) Să demonteze carul.
B) Să spargă ușa.
C) Să îl strice și să facă altul.





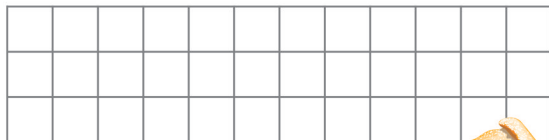
Matematică

- 1** Calculează suma numerelor scrise pe cele trei punguțe și descoperă câți bani a adus cocoșul moșului.



- A) **61** B) **72** C) **71**

- 2** Fata moșneagului a primit de la cuptorul îngrijit **24** de plăcinte. Ea a mâncat pe loc **2** plăcinte, iar pe drumul spre casă încă **3**. Câte plăcinte i-au mai rămas?



- A) **19** B) **29** C) **25**



- 3** ledul cel mic se joacă cu bilele de mai jos. Care este cel mai mare număr par alcătuit din zeci și unități pe care îl poate forma cu ele?



- A) **78** B) **82** C) **85**

- 4** Omul din povestea *Prostia omenească* încerca să ducă soarele în casă de trei zile. În fiecare zi se trezea la ora **7:00** și lucra **10** ore. La ce oră termina treaba?

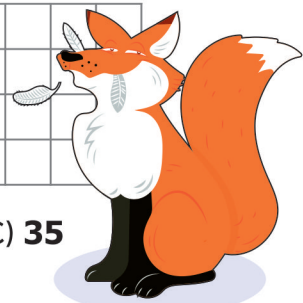
- A) **3:00**
B) **13:00**
C) **17:00**



- 5** Vulpea a furat într-o noapte **15** găini și cu **5** mai puține găște. Câte păsări a furat în total?



- A) **10** B) **25** C) **35**

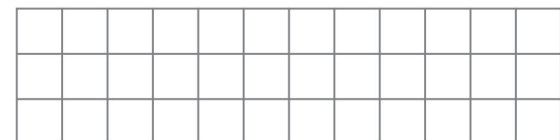


6 $\triangle + \bigcirc + \square = 14$

$\square + \bigcirc = 12$

$\square + \square + \square = 9$

$\triangle = ?$

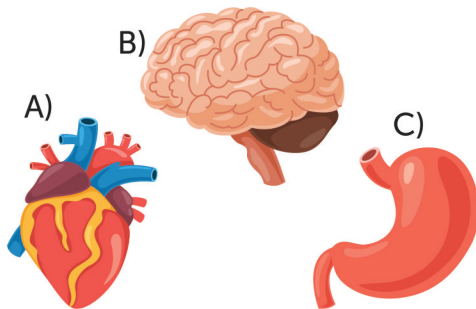


- A) **2** B) **3** C) **4**

Științe



- 1** Acțiunile și mișcările omului leneș din poveste erau coordonate de:




- 2** Recunoaște scheletul pentru a descoperi ce a mâncat cumătra vulpe la prânz.

- A) un pește
B) un iepure
C) o găină



- 3** Alege ordinea corectă de dezvoltare a plantei.



- A) 4,3,1,2 B) 1,2,3,4 C) 4,3,2,1

- 4** La baltă, ursul păcălit de vulpe și-a rupt coada în urma procesului de:

- A) solidificare a apei
B) evaporare a apei
C) condensare a apei


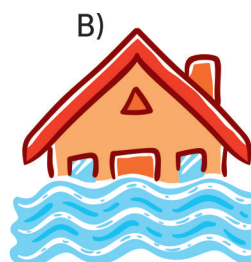



- 5** La praznic, capra l-a servit pe lup cu sarmale în foi de varză. Ce parte a plantei a folosit ea pentru a înveli sarmalele?

- A) floarea
B) tulpina
C) frunzele



- 6** Alege imaginea în care recunoști efectele negative ale apei.



Concursul Național AMINTIRI din COPILĂRIE
An școlar 2018-2019
Etapa 3 - 17 mai 2019



FORMULAR de EVALUARE

NUMELE

CLASA

CP 1 2 3 4 A B C D E F G H

ȘCOALA

LOCALITATEA

RĂSPUNSURI

Limba română

	A	B	C
1	<input type="checkbox"/>	<input type="checkbox"/>	<input type="checkbox"/>
2	<input type="checkbox"/>	<input type="checkbox"/>	<input type="checkbox"/>
3	<input type="checkbox"/>	<input type="checkbox"/>	<input type="checkbox"/>
4	<input type="checkbox"/>	<input type="checkbox"/>	<input type="checkbox"/>
5	<input type="checkbox"/>	<input type="checkbox"/>	<input type="checkbox"/>
6	<input type="checkbox"/>	<input type="checkbox"/>	<input type="checkbox"/>
7	<input type="checkbox"/>	<input type="checkbox"/>	<input type="checkbox"/>
8	<input type="checkbox"/>	<input type="checkbox"/>	<input type="checkbox"/>
9	<input type="checkbox"/>	<input type="checkbox"/>	<input type="checkbox"/>
10	<input type="checkbox"/>	<input type="checkbox"/>	<input type="checkbox"/>

Matematică

	A	B	C
1	<input type="checkbox"/>	<input type="checkbox"/>	<input type="checkbox"/>
2	<input type="checkbox"/>	<input type="checkbox"/>	<input type="checkbox"/>
3	<input type="checkbox"/>	<input type="checkbox"/>	<input type="checkbox"/>
4	<input type="checkbox"/>	<input type="checkbox"/>	<input type="checkbox"/>
5	<input type="checkbox"/>	<input type="checkbox"/>	<input type="checkbox"/>
6	<input type="checkbox"/>	<input type="checkbox"/>	<input type="checkbox"/>
7	<input type="checkbox"/>	<input type="checkbox"/>	<input type="checkbox"/>
8	<input type="checkbox"/>	<input type="checkbox"/>	<input type="checkbox"/>
9	<input type="checkbox"/>	<input type="checkbox"/>	<input type="checkbox"/>
10	<input type="checkbox"/>	<input type="checkbox"/>	<input type="checkbox"/>

Științe

	A	B	C
1	<input type="checkbox"/>	<input type="checkbox"/>	<input type="checkbox"/>
2	<input type="checkbox"/>	<input type="checkbox"/>	<input type="checkbox"/>
3	<input type="checkbox"/>	<input type="checkbox"/>	<input type="checkbox"/>
4	<input type="checkbox"/>	<input type="checkbox"/>	<input type="checkbox"/>
5	<input type="checkbox"/>	<input type="checkbox"/>	<input type="checkbox"/>
6	<input type="checkbox"/>	<input type="checkbox"/>	<input type="checkbox"/>
7	<input type="checkbox"/>	<input type="checkbox"/>	<input type="checkbox"/>
8	<input type="checkbox"/>	<input type="checkbox"/>	<input type="checkbox"/>
9	<input type="checkbox"/>	<input type="checkbox"/>	<input type="checkbox"/>
10	<input type="checkbox"/>	<input type="checkbox"/>	<input type="checkbox"/>

Concursul Național AMINTIRI din COPILĂRIE
An școlar 2018-2019
Etapa 3 - 17 mai 2019

CLASA CP 1 2 3 4

RĂSPUNSURI

Limba română	Matematică	Științe
1 <input checked="" type="checkbox"/> A <input type="checkbox"/> B <input type="checkbox"/> C	1 <input type="checkbox"/> A <input type="checkbox"/> B <input checked="" type="checkbox"/> C	1 <input type="checkbox"/> A <input checked="" type="checkbox"/> B <input type="checkbox"/> C
2 <input type="checkbox"/> A <input checked="" type="checkbox"/> B <input type="checkbox"/> C	2 <input checked="" type="checkbox"/> A <input type="checkbox"/> B <input type="checkbox"/> C	2 <input type="checkbox"/> A <input type="checkbox"/> B <input checked="" type="checkbox"/> C
3 <input type="checkbox"/> A <input type="checkbox"/> B <input checked="" type="checkbox"/> C	3 <input type="checkbox"/> A <input checked="" type="checkbox"/> B <input type="checkbox"/> C	3 <input checked="" type="checkbox"/> A <input type="checkbox"/> B <input type="checkbox"/> C
4 <input type="checkbox"/> A <input checked="" type="checkbox"/> B <input type="checkbox"/> C	4 <input type="checkbox"/> A <input type="checkbox"/> B <input checked="" type="checkbox"/> C	4 <input checked="" type="checkbox"/> A <input type="checkbox"/> B <input type="checkbox"/> C
5 <input checked="" type="checkbox"/> A <input type="checkbox"/> B <input type="checkbox"/> C	5 <input type="checkbox"/> A <input checked="" type="checkbox"/> B <input type="checkbox"/> C	5 <input type="checkbox"/> A <input type="checkbox"/> B <input checked="" type="checkbox"/> C
6 <input type="checkbox"/> A <input type="checkbox"/> B <input checked="" type="checkbox"/> C	6 <input checked="" type="checkbox"/> A <input type="checkbox"/> B <input type="checkbox"/> C	6 <input type="checkbox"/> A <input checked="" type="checkbox"/> B <input type="checkbox"/> C
7 <input type="checkbox"/> A <input checked="" type="checkbox"/> B <input type="checkbox"/> C	7 <input type="checkbox"/> A <input type="checkbox"/> B <input type="checkbox"/> C	7 <input type="checkbox"/> A <input type="checkbox"/> B <input type="checkbox"/> C
8 <input checked="" type="checkbox"/> A <input type="checkbox"/> B <input type="checkbox"/> C	8 <input type="checkbox"/> A <input type="checkbox"/> B <input type="checkbox"/> C	8 <input type="checkbox"/> A <input type="checkbox"/> B <input type="checkbox"/> C
9 <input type="checkbox"/> A <input type="checkbox"/> B <input type="checkbox"/> C	9 <input type="checkbox"/> A <input type="checkbox"/> B <input type="checkbox"/> C	9 <input type="checkbox"/> A <input type="checkbox"/> B <input type="checkbox"/> C
10 <input type="checkbox"/> A <input type="checkbox"/> B <input type="checkbox"/> C	10 <input type="checkbox"/> A <input type="checkbox"/> B <input type="checkbox"/> C	10 <input type="checkbox"/> A <input type="checkbox"/> B <input type="checkbox"/> C

MODUL de CALCUL al PUNCTAJULUI

PUNCTAJ din OFICIU	40p
PUNCTAJ SUBIECTE	$20 \times 3p = 60p$
PUNCTAJ TOTAL	100p