

Limba română



Ascultă cu atenție textul și alege răspunsurile corecte.

În casă e multă liniște. Șoricelul Chiț iese din ascunzătoare. În bucătărie, pe masă, este o bucată mare de cașcaval. Șoricelul se cațără pe masă. Dar motanul Tom îl zărește. El se repede și prinde hoțul de codiță. Bietul șoricel se sperie. Motanul îl ceartă, apoi îl lasă să plece. Șoricelul se ascunde repede.

- 1** Alege titlul care se potrivește cel mai bine textului.
- A) Aventuri cu Tom și Chiț
 - B) Doi prieteni buni
 - C) Când pisica nu-i acasă

- 2** Unde se petrec întâmplările?
- A) în curtea casei
 - B) în sufragerie
 - C) în bucătărie

- 3** Cum ajunge șoricelul la bucată de cașcaval?
- A) se cațără pe masă
 - B) sare pe dulap
 - C) fuge în ascunzătoare

- 4** Ce face Tom cu șoricelul, după ce îl prinde?
- A) îl mănâncă
 - B) îl eliberează
 - C) îl închide în dulap



- 5** Alege cuvântul care poate avea mai multe înțelesuri:
- A) motan
 - B) mare
 - C) hoț



- 6** Alege cuvântul despărțit corect în silabe:

A ȘOR-I-CEL

B CA-ȘCA-VAL

C BU-CĂ-TĂ-RI-E

- 7** Care cuvânt este alintat corect?
- A) șoarece - șoarec
 - B) casă - căsuță
 - C) bucată - bucăți

- 8** Alege propoziția scrisă corect:

- A) Chiț tremura de frica motanului.
- B) motanul Tom zărește șoricelul.
- C) Bucata de Cașcaval este pe masă.



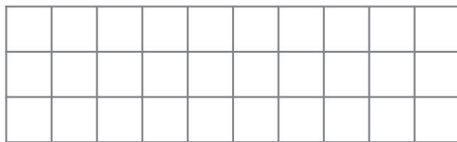
Matematică

1 Pe strada lui Tom, toate casele au numere pare. Vecinii lui Tom locuiesc la numerele **18** și **22**. Ce număr are casa motanului?



A) 19 B) 21 C) 20

2 Pe o farfurie sunt **4** felii de brânză și **5** felii de cașcaval. Șoricelul roade câte **2** felii din fiecare fel. Câte felii au rămas pe farfurie?



A) 5 B) 7 C) 4

3 Așază rezultatele în ordine crescătoare și vei afla numele prietenei lui Tom.

$$26 - 13 = \square \square \quad \text{I}$$

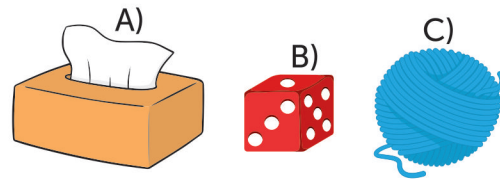
$$13 + 12 = \square \square \quad \text{A}$$

$$25 - 4 = \square \square \quad \text{N}$$

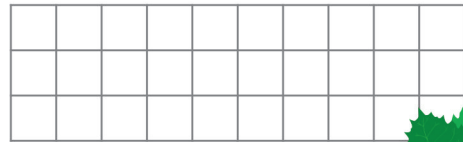


A) ANI B) INA C) NIA

4 Jucăria preferată a lui Tom are formă de sferă. O poți găsi?



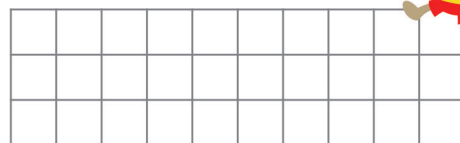
5 Chiț vrea să adune câte **5** alune pentru fiecare dintre cei **4** pui ai săi. Câte alune va culege în total?



A) 20 B) 9 C) 5



6 Tom și Chiț au împreună **16** ani. Vârsta lui Tom este cel mai mic număr natural format din două cifre diferite. Câți ani are Chiț?



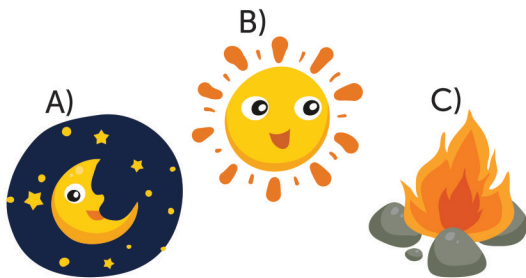
A) 4 B) 6 C) 5



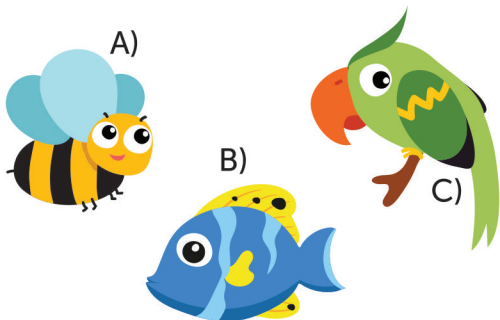
Științe



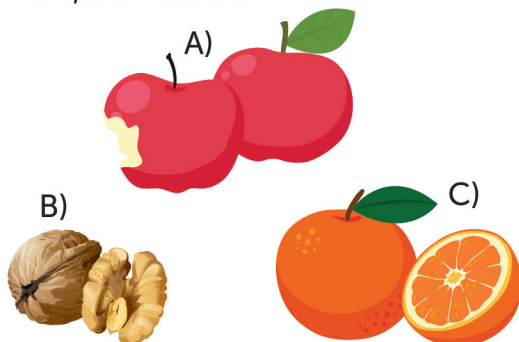
1 Pe fereastra casei în care locuiesc Tom și Chiț intră în casă o lumină puternică. De unde vine ea?



2 Tom privește în acvariu. Ce animale credeți că vede?



3 Chiț a găsit în cămară nuci, portocale, struguri și pere. Alege fructele care nu cresc în țara noastră.

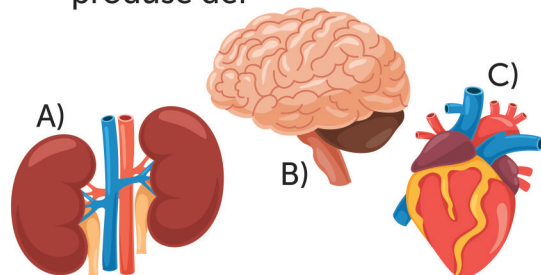


4 Tom și Chiț descoperă în casă următoarele obiecte: prăjitor de pâine, fier de călcat, uscător de păr. Acestea funcționează...

- A) cu electricitate
- B) cu ajutorul apei
- C) cu ajutorul sunetelor



5 Văzând șoricelul în bucătărie, stăpâna casei s-a speriat. A simțit în piept niște bătăi puternice, produse de:



6 Fiind iarnă, Chiț și Tom se gândesc să plece la munte. Ghicește ce sport le place.

*„Are tălpi perechi, lucioase,
Fine și alunecoase!
Sprintenică și ușoară,
Prin zăpadă parcă zboară!”*

- A) săniușul
- B) patinajul
- C) schiul

Concursul Național AMINTIRI din COPILĂRIE
An școlar 2018-2019
Etapa 2 - 22 februarie 2019



FORMULAR de EVALUARE

NUMELE

CLASA

CP 1 2 3 4 A B C D E F G H

ȘCOALA

LOCALITATEA

RĂSPUNSURI

Limba română

	A	B	C
1	<input type="checkbox"/>	<input type="checkbox"/>	<input type="checkbox"/>
2	<input type="checkbox"/>	<input type="checkbox"/>	<input type="checkbox"/>
3	<input type="checkbox"/>	<input type="checkbox"/>	<input type="checkbox"/>
4	<input type="checkbox"/>	<input type="checkbox"/>	<input type="checkbox"/>
5	<input type="checkbox"/>	<input type="checkbox"/>	<input type="checkbox"/>
6	<input type="checkbox"/>	<input type="checkbox"/>	<input type="checkbox"/>
7	<input type="checkbox"/>	<input type="checkbox"/>	<input type="checkbox"/>
8	<input type="checkbox"/>	<input type="checkbox"/>	<input type="checkbox"/>
9	<input type="checkbox"/>	<input type="checkbox"/>	<input type="checkbox"/>
10	<input type="checkbox"/>	<input type="checkbox"/>	<input type="checkbox"/>

Matematică

	A	B	C
1	<input type="checkbox"/>	<input type="checkbox"/>	<input type="checkbox"/>
2	<input type="checkbox"/>	<input type="checkbox"/>	<input type="checkbox"/>
3	<input type="checkbox"/>	<input type="checkbox"/>	<input type="checkbox"/>
4	<input type="checkbox"/>	<input type="checkbox"/>	<input type="checkbox"/>
5	<input type="checkbox"/>	<input type="checkbox"/>	<input type="checkbox"/>
6	<input type="checkbox"/>	<input type="checkbox"/>	<input type="checkbox"/>
7	<input type="checkbox"/>	<input type="checkbox"/>	<input type="checkbox"/>
8	<input type="checkbox"/>	<input type="checkbox"/>	<input type="checkbox"/>
9	<input type="checkbox"/>	<input type="checkbox"/>	<input type="checkbox"/>
10	<input type="checkbox"/>	<input type="checkbox"/>	<input type="checkbox"/>

Științe

	A	B	C
1	<input type="checkbox"/>	<input type="checkbox"/>	<input type="checkbox"/>
2	<input type="checkbox"/>	<input type="checkbox"/>	<input type="checkbox"/>
3	<input type="checkbox"/>	<input type="checkbox"/>	<input type="checkbox"/>
4	<input type="checkbox"/>	<input type="checkbox"/>	<input type="checkbox"/>
5	<input type="checkbox"/>	<input type="checkbox"/>	<input type="checkbox"/>
6	<input type="checkbox"/>	<input type="checkbox"/>	<input type="checkbox"/>
7	<input type="checkbox"/>	<input type="checkbox"/>	<input type="checkbox"/>
8	<input type="checkbox"/>	<input type="checkbox"/>	<input type="checkbox"/>
9	<input type="checkbox"/>	<input type="checkbox"/>	<input type="checkbox"/>
10	<input type="checkbox"/>	<input type="checkbox"/>	<input type="checkbox"/>

Concursul Național AMINTIRI din COPILĂRIE
An școlar 2018-2019
Etapa 2 - 22 februarie 2019

CLASA CP 1 2 3 4

RĂSPUNSURI

Limba română			
	A	B	C
1	<input checked="" type="checkbox"/>	<input type="checkbox"/>	<input type="checkbox"/>
2	<input type="checkbox"/>	<input type="checkbox"/>	<input checked="" type="checkbox"/>
3	<input checked="" type="checkbox"/>	<input type="checkbox"/>	<input type="checkbox"/>
4	<input type="checkbox"/>	<input checked="" type="checkbox"/>	<input type="checkbox"/>
5	<input type="checkbox"/>	<input checked="" type="checkbox"/>	<input type="checkbox"/>
6	<input type="checkbox"/>	<input type="checkbox"/>	<input checked="" type="checkbox"/>
7	<input type="checkbox"/>	<input checked="" type="checkbox"/>	<input type="checkbox"/>
8	<input checked="" type="checkbox"/>	<input type="checkbox"/>	<input type="checkbox"/>
9	<input type="checkbox"/>	<input type="checkbox"/>	<input type="checkbox"/>
10	<input type="checkbox"/>	<input type="checkbox"/>	<input type="checkbox"/>

Matematică			
	A	B	C
1	<input type="checkbox"/>	<input type="checkbox"/>	<input checked="" type="checkbox"/>
2	<input checked="" type="checkbox"/>	<input type="checkbox"/>	<input type="checkbox"/>
3	<input type="checkbox"/>	<input checked="" type="checkbox"/>	<input type="checkbox"/>
4	<input type="checkbox"/>	<input type="checkbox"/>	<input checked="" type="checkbox"/>
5	<input checked="" type="checkbox"/>	<input type="checkbox"/>	<input type="checkbox"/>
6	<input type="checkbox"/>	<input checked="" type="checkbox"/>	<input type="checkbox"/>
7	<input type="checkbox"/>	<input type="checkbox"/>	<input type="checkbox"/>
8	<input type="checkbox"/>	<input type="checkbox"/>	<input type="checkbox"/>
9	<input type="checkbox"/>	<input type="checkbox"/>	<input type="checkbox"/>
10	<input type="checkbox"/>	<input type="checkbox"/>	<input type="checkbox"/>

Științe			
	A	B	C
1	<input type="checkbox"/>	<input checked="" type="checkbox"/>	<input type="checkbox"/>
2	<input type="checkbox"/>	<input checked="" type="checkbox"/>	<input type="checkbox"/>
3	<input type="checkbox"/>	<input type="checkbox"/>	<input checked="" type="checkbox"/>
4	<input checked="" type="checkbox"/>	<input type="checkbox"/>	<input type="checkbox"/>
5	<input type="checkbox"/>	<input type="checkbox"/>	<input checked="" type="checkbox"/>
6	<input checked="" type="checkbox"/>	<input type="checkbox"/>	<input type="checkbox"/>
7	<input type="checkbox"/>	<input type="checkbox"/>	<input type="checkbox"/>
8	<input type="checkbox"/>	<input type="checkbox"/>	<input type="checkbox"/>
9	<input type="checkbox"/>	<input type="checkbox"/>	<input type="checkbox"/>
10	<input type="checkbox"/>	<input type="checkbox"/>	<input type="checkbox"/>

MODUL de CALCUL al PUNCTAJULUI

PUNCTAJ din OFICIU	40p
PUNCTAJ SUBIECTE	$20 \times 3p = 60p$
PUNCTAJ TOTAL	100p