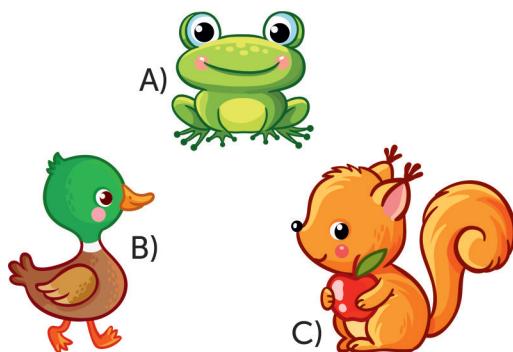


Limba română



1 Alege animalul a cărui denumire conține patru silabe.



2 Ordonează silabele.
Ce cuvânt ai obținut?



- A) CĂRBUNE
B) BUCĂȚAR
C) TARANTULĂ

3 Alege cuvântul care începe și se termină cu o vocală.

- A) **ANEMONĂ**
B) **CRIZANTEMĂ**
C) **BUJOR**

4 Alege cuvântul care descrie imaginea.

- A) *mamaie*
B) *nenea*
C) *nimeni*




5 Desparte în cuvinte propoziția.
Câte cuvinte ai obținut?

PLOAIABATELAFEREASTRĂ.

- A) **3** B) **4** C) **5**

6 Alege reprezentarea literei **e** în cuvântul care denumește imaginea.

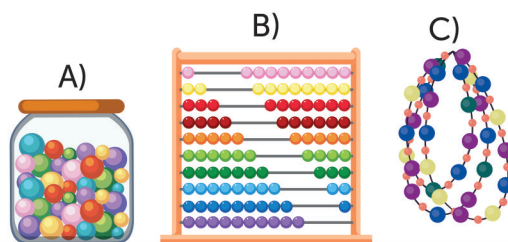


- A) ○ ● - ○ ○ - ○ ●
B) ○ ● ○ - ● - ○ ●
C) ○ ○ - ○ ● - ○ ●

7 Descoperă perechea de cuvinte cu înțeles OPUS.



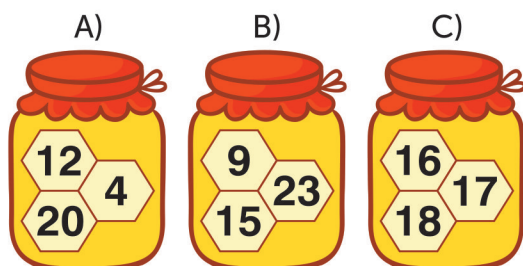
8 Bile mici și colorate
Stau pe sârmă înșirate,
Orișicum le-ai așezat,
Te-ajută la numărare.





Matematică

1 Moș Martin vrea să mănânce miere din borcanul pe care sunt scrise doar numere pare. Ce borcan va alege?



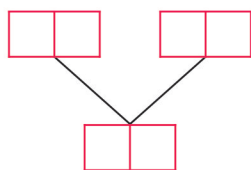
2 Completează numerele care lipsesc și descoperă codul de intrare în peștera lui Ali Baba.



A) 688 B) 980 C) 988




3 Pentru a nu se rătăci în pădure, Hansel a pus în buzunarul stâng 20 de pietricele, iar în cel drept 7 pietricele. Câte pietricele are Hansel în total? Compune numărul lor.



A) 90
B) 27
C) 20

4 Ajut-o pe Albă-ca-Zăpada să rezolve problema, după imagini.

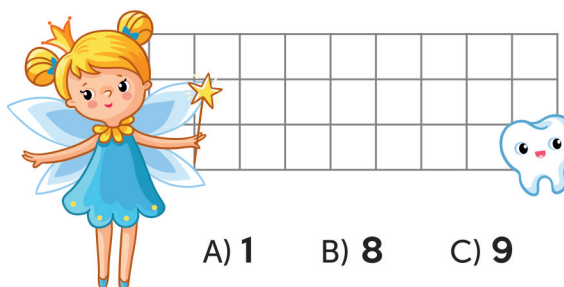


A) $3 - 2 = 1$

B) $2 + 3 = 5$

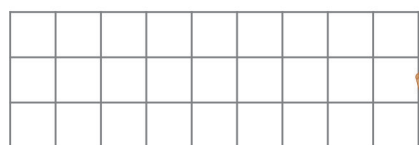
C) $5 - 3 = 2$

5 Zâna Măseluță a adunat 5 dințișori de fete și 4 de băieți. Câți dințișori are ea în total?



A) 1 B) 8 C) 9

6 Pinocchio a primit de la tatăl lui 10 biscuiți. Ajuns la școală, a văzut că mai are doar 3. Câți biscuiți a mâncat Pinocchio pe drum?



A) 7 B) 13 C) 6



Științe





- 1** Alege organul de simț folosit de lup pentru a o auzi mai bine pe Scufița Roșie.




- A) gura
- B) urechea
- C) nasul



- 2** Pentru a face poțiunea magică, vrăjitoarea trebuie să pună în oală o rădăcină dulce. O poți ajuta să aleagă?



- 3** Prin ograda moșului se plimbă un animal care nu are membre. L-ai descoperit?





- 4** Pe steagul lor, pirații folosesc imagini cu oase din scheletul:

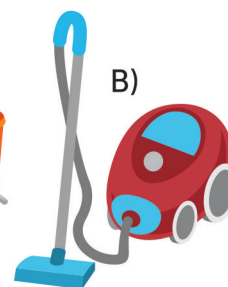
- A) bazinului
- B) craniului și membrilor
- C) coloanei vertebrale



- 5** Ajută-l pe Micul Prinț să ajungă pe planeta oamenilor.



- 6** Pentru a-și ușura munca, Cenușăreasa vrea să folosească un obiect care funcționează cu ajutorul electricității. Ce obiect va alege?



Concursul Național AMINTIRI din COPILĂRIE
An școlar 2018-2019
Etapa I - 9 noiembrie 2018



FORMULAR de EVALUARE

NUMELE

CLASA

CP 1 2 3 4 A B C D E F G H

ȘCOALA

LOCALITATEA

RĂSPUNSURI

Limba română

	A	B	C
1	<input type="checkbox"/>	<input type="checkbox"/>	<input type="checkbox"/>
2	<input type="checkbox"/>	<input type="checkbox"/>	<input type="checkbox"/>
3	<input type="checkbox"/>	<input type="checkbox"/>	<input type="checkbox"/>
4	<input type="checkbox"/>	<input type="checkbox"/>	<input type="checkbox"/>
5	<input type="checkbox"/>	<input type="checkbox"/>	<input type="checkbox"/>
6	<input type="checkbox"/>	<input type="checkbox"/>	<input type="checkbox"/>
7	<input type="checkbox"/>	<input type="checkbox"/>	<input type="checkbox"/>
8	<input type="checkbox"/>	<input type="checkbox"/>	<input type="checkbox"/>
9	<input type="checkbox"/>	<input type="checkbox"/>	<input type="checkbox"/>
10	<input type="checkbox"/>	<input type="checkbox"/>	<input type="checkbox"/>

Matematică

	A	B	C
1	<input type="checkbox"/>	<input type="checkbox"/>	<input type="checkbox"/>
2	<input type="checkbox"/>	<input type="checkbox"/>	<input type="checkbox"/>
3	<input type="checkbox"/>	<input type="checkbox"/>	<input type="checkbox"/>
4	<input type="checkbox"/>	<input type="checkbox"/>	<input type="checkbox"/>
5	<input type="checkbox"/>	<input type="checkbox"/>	<input type="checkbox"/>
6	<input type="checkbox"/>	<input type="checkbox"/>	<input type="checkbox"/>
7	<input type="checkbox"/>	<input type="checkbox"/>	<input type="checkbox"/>
8	<input type="checkbox"/>	<input type="checkbox"/>	<input type="checkbox"/>
9	<input type="checkbox"/>	<input type="checkbox"/>	<input type="checkbox"/>
10	<input type="checkbox"/>	<input type="checkbox"/>	<input type="checkbox"/>

Științe

	A	B	C
1	<input type="checkbox"/>	<input type="checkbox"/>	<input type="checkbox"/>
2	<input type="checkbox"/>	<input type="checkbox"/>	<input type="checkbox"/>
3	<input type="checkbox"/>	<input type="checkbox"/>	<input type="checkbox"/>
4	<input type="checkbox"/>	<input type="checkbox"/>	<input type="checkbox"/>
5	<input type="checkbox"/>	<input type="checkbox"/>	<input type="checkbox"/>
6	<input type="checkbox"/>	<input type="checkbox"/>	<input type="checkbox"/>
7	<input type="checkbox"/>	<input type="checkbox"/>	<input type="checkbox"/>
8	<input type="checkbox"/>	<input type="checkbox"/>	<input type="checkbox"/>
9	<input type="checkbox"/>	<input type="checkbox"/>	<input type="checkbox"/>
10	<input type="checkbox"/>	<input type="checkbox"/>	<input type="checkbox"/>

Concursul Național AMINTIRI din COPILĂRIE
An școlar 2018-2019
Etapa I - 9 noiembrie 2018

CLASA CP 1 2 3 4

RĂSPUNSURI

Limba română			
	A	B	C
1	<input type="checkbox"/>	<input type="checkbox"/>	<input checked="" type="checkbox"/>
2	<input type="checkbox"/>	<input checked="" type="checkbox"/>	<input type="checkbox"/>
3	<input checked="" type="checkbox"/>	<input type="checkbox"/>	<input type="checkbox"/>
4	<input checked="" type="checkbox"/>	<input type="checkbox"/>	<input type="checkbox"/>
5	<input type="checkbox"/>	<input checked="" type="checkbox"/>	<input type="checkbox"/>
6	<input type="checkbox"/>	<input type="checkbox"/>	<input checked="" type="checkbox"/>
7	<input checked="" type="checkbox"/>	<input type="checkbox"/>	<input type="checkbox"/>
8	<input type="checkbox"/>	<input checked="" type="checkbox"/>	<input type="checkbox"/>
9	<input type="checkbox"/>	<input type="checkbox"/>	<input type="checkbox"/>
10	<input type="checkbox"/>	<input type="checkbox"/>	<input type="checkbox"/>

Matematică			
	A	B	C
1	<input checked="" type="checkbox"/>	<input type="checkbox"/>	<input type="checkbox"/>
2	<input type="checkbox"/>	<input type="checkbox"/>	<input checked="" type="checkbox"/>
3	<input type="checkbox"/>	<input checked="" type="checkbox"/>	<input type="checkbox"/>
4	<input type="checkbox"/>	<input type="checkbox"/>	<input checked="" type="checkbox"/>
5	<input type="checkbox"/>	<input type="checkbox"/>	<input checked="" type="checkbox"/>
6	<input checked="" type="checkbox"/>	<input type="checkbox"/>	<input type="checkbox"/>
7	<input type="checkbox"/>	<input type="checkbox"/>	<input type="checkbox"/>
8	<input type="checkbox"/>	<input type="checkbox"/>	<input type="checkbox"/>
9	<input type="checkbox"/>	<input type="checkbox"/>	<input type="checkbox"/>
10	<input type="checkbox"/>	<input type="checkbox"/>	<input type="checkbox"/>

Științe			
	A	B	C
1	<input type="checkbox"/>	<input checked="" type="checkbox"/>	<input type="checkbox"/>
2	<input checked="" type="checkbox"/>	<input type="checkbox"/>	<input type="checkbox"/>
3	<input type="checkbox"/>	<input type="checkbox"/>	<input checked="" type="checkbox"/>
4	<input type="checkbox"/>	<input checked="" type="checkbox"/>	<input type="checkbox"/>
5	<input checked="" type="checkbox"/>	<input type="checkbox"/>	<input type="checkbox"/>
6	<input type="checkbox"/>	<input checked="" type="checkbox"/>	<input type="checkbox"/>
7	<input type="checkbox"/>	<input type="checkbox"/>	<input type="checkbox"/>
8	<input type="checkbox"/>	<input type="checkbox"/>	<input type="checkbox"/>
9	<input type="checkbox"/>	<input type="checkbox"/>	<input type="checkbox"/>
10	<input type="checkbox"/>	<input type="checkbox"/>	<input type="checkbox"/>

MODUL de CALCUL al PUNCTAJULUI

PUNCTAJ din OFICIU	40p
PUNCTAJ SUBIECTE	$20 \times 3p = 60p$
PUNCTAJ TOTAL	100p