

Limba română



1 Lupul din povestea "Capra cu trei iezi" a mers la fierar pentru:

- A) a-și ascuți ghearele
- B) a-și subția glasul
- C) a-și face o armă



2 Iedul mare și cel mijlociu s-au lăsat păcăliți de lup din cauză că:

- A) l-au confundat cu capra
- B) erau buni prieteni cu el
- C) nu vedeau bine

3 După ce i-a luat punguța cu doi bani, vizitiul l-a aruncat pe cocoș:

- A) într-un lac
- B) într-o cireadă
- C) într-o fântână

4 După ce a văzut averea adunată de cocoș, baba:

- A) a rămas indiferentă
- B) i-a cerut moșului niște galbeni
- C) l-a felicitat pe moșneag



5 După ce a stat pe balta înghețată o vreme, ursul din povestea "Ursul păcălit de vulpe":


- A) și-a rupt coada
- B) și-a spălat coada
- C) a adormit

6 Copiii Sfintei Duminici din povestea "Fata babei și fata moșneagului" erau:

- A) fete și băieți
- B) balauri și jivine
- C) câini și pisici

7 Pentru a-l salva de la spânzurătoare pe omul leneș din povestea cu același nume, cucoana i-a propus:

- A) să mănânce posmagi
- B) să muncească la câmp
- C) să ducă vitele la păscut




8 În călătoria lui, omul din povestea "Prostia omenească" a întâlnit:

- A) oameni gospodari
- B) oameni curajoși
- C) oameni fără minte




Matematică

1 Păstrând ordinea crescătoare, descoperă pe ce piatră va ajunge cocoșul din poveste, după ce va face 4 pași.




- A) 45 B) 55 C) 50

2 Câte roșii cântărește o varză?



- A) 2 B) 3 C) 4

3 Calculează suma primelor trei numere impare, formate din zeci și unități.



- A) 39 B) 38 C) 36

4 Omul leneș din poveste dormea de patru ore sub un copac, la umbră. Știind că ceasul arată ora 15:00, aflați la ce oră s-a culcat.

- A) 11:00
B) 12:00
C) 19:00



5 Drumețul din poveste îl învață pe țăran să ducă nucile în pod cu o găleată. În prima zi duce 25 de nuci, iar a doua zi 26 de nuci. Câte nuci trebuie să ducă în cea de-a treia zi, pentru a sui în pod toate cele 70 de nuci?



- A) 39 B) 19 C) 29

6 Capra vrea să împartă o pâine în trei bucăți, câte una pentru fiecare ied. Câte tăieturi trebuie să facă?



- A) 3 B) 4 C) 2


Științe



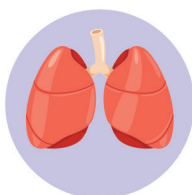
- 1** Fructele plantelor apar din:
A) flori
B) semințe
C) frunze



- 2** Descoperă animalul dăunător pentru plante.



- 3** Alege locul plămânilor în corpul băiatului.

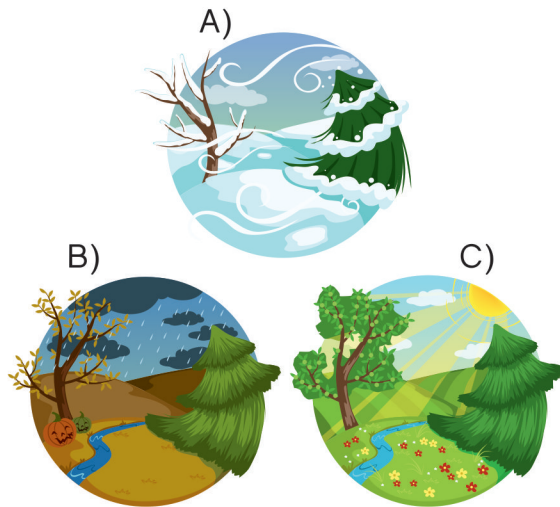


- 4** Ce se va întâmpla cu cuburile de gheață din pahar?



- A) se vor condensa
B) se vor evaporă
C) se vor topi

- 5** Alege imaginea lunii IUNIE.



- 6** Hidrocentră produce energie cu ajutorul:

- A) apei B) vântului C) soarelui



Concursul Național AMINTIRI din COPILĂRIE

Etapa 3 - 21 mai 2018



FORMULAR de EVALUARE

NUMELE

CLASA

ȘCOALA

LOCALITATEA

RĂSPUNSURI

Limba română

	A	B	C
1	<input type="text"/>	<input type="text"/>	<input type="text"/>
2	<input type="text"/>	<input type="text"/>	<input type="text"/>
3	<input type="text"/>	<input type="text"/>	<input type="text"/>
4	<input type="text"/>	<input type="text"/>	<input type="text"/>
5	<input type="text"/>	<input type="text"/>	<input type="text"/>
6	<input type="text"/>	<input type="text"/>	<input type="text"/>
7	<input type="text"/>	<input type="text"/>	<input type="text"/>
8	<input type="text"/>	<input type="text"/>	<input type="text"/>
9	<input type="text"/>	<input type="text"/>	<input type="text"/>
10	<input type="text"/>	<input type="text"/>	<input type="text"/>

Matematică

	A	B	C
1	<input type="text"/>	<input type="text"/>	<input type="text"/>
2	<input type="text"/>	<input type="text"/>	<input type="text"/>
3	<input type="text"/>	<input type="text"/>	<input type="text"/>
4	<input type="text"/>	<input type="text"/>	<input type="text"/>
5	<input type="text"/>	<input type="text"/>	<input type="text"/>
6	<input type="text"/>	<input type="text"/>	<input type="text"/>
7	<input type="text"/>	<input type="text"/>	<input type="text"/>
8	<input type="text"/>	<input type="text"/>	<input type="text"/>
9	<input type="text"/>	<input type="text"/>	<input type="text"/>
10	<input type="text"/>	<input type="text"/>	<input type="text"/>

Științe

	A	B	C
1	<input type="text"/>	<input type="text"/>	<input type="text"/>
2	<input type="text"/>	<input type="text"/>	<input type="text"/>
3	<input type="text"/>	<input type="text"/>	<input type="text"/>
4	<input type="text"/>	<input type="text"/>	<input type="text"/>
5	<input type="text"/>	<input type="text"/>	<input type="text"/>
6	<input type="text"/>	<input type="text"/>	<input type="text"/>
7	<input type="text"/>	<input type="text"/>	<input type="text"/>
8	<input type="text"/>	<input type="text"/>	<input type="text"/>
9	<input type="text"/>	<input type="text"/>	<input type="text"/>
10	<input type="text"/>	<input type="text"/>	<input type="text"/>

Concursul Național AMINTIRI din COPILĂRIE

Etapa 3 - 21 mai 2018

CLASA CP 1 2 3 4

RĂSPUNSURI

Limba română			
	A	B	C
1	<input type="checkbox"/>	<input checked="" type="checkbox"/>	<input type="checkbox"/>
2	<input checked="" type="checkbox"/>	<input type="checkbox"/>	<input type="checkbox"/>
3	<input type="checkbox"/>	<input type="checkbox"/>	<input checked="" type="checkbox"/>
4	<input type="checkbox"/>	<input checked="" type="checkbox"/>	<input type="checkbox"/>
5	<input checked="" type="checkbox"/>	<input type="checkbox"/>	<input type="checkbox"/>
6	<input type="checkbox"/>	<input checked="" type="checkbox"/>	<input type="checkbox"/>
7	<input checked="" type="checkbox"/>	<input type="checkbox"/>	<input type="checkbox"/>
8	<input type="checkbox"/>	<input type="checkbox"/>	<input checked="" type="checkbox"/>
9	<input type="checkbox"/>	<input type="checkbox"/>	<input type="checkbox"/>
10	<input type="checkbox"/>	<input type="checkbox"/>	<input type="checkbox"/>

Matematică			
	A	B	C
1	<input type="checkbox"/>	<input type="checkbox"/>	<input checked="" type="checkbox"/>
2	<input type="checkbox"/>	<input checked="" type="checkbox"/>	<input type="checkbox"/>
3	<input checked="" type="checkbox"/>	<input type="checkbox"/>	<input type="checkbox"/>
4	<input checked="" type="checkbox"/>	<input type="checkbox"/>	<input type="checkbox"/>
5	<input type="checkbox"/>	<input checked="" type="checkbox"/>	<input type="checkbox"/>
6	<input type="checkbox"/>	<input type="checkbox"/>	<input checked="" type="checkbox"/>
7	<input type="checkbox"/>	<input type="checkbox"/>	<input type="checkbox"/>
8	<input type="checkbox"/>	<input type="checkbox"/>	<input type="checkbox"/>
9	<input type="checkbox"/>	<input type="checkbox"/>	<input type="checkbox"/>
10	<input type="checkbox"/>	<input type="checkbox"/>	<input type="checkbox"/>

Științe			
	A	B	C
1	<input checked="" type="checkbox"/>	<input type="checkbox"/>	<input type="checkbox"/>
2	<input type="checkbox"/>	<input type="checkbox"/>	<input checked="" type="checkbox"/>
3	<input type="checkbox"/>	<input checked="" type="checkbox"/>	<input type="checkbox"/>
4	<input type="checkbox"/>	<input type="checkbox"/>	<input checked="" type="checkbox"/>
5	<input type="checkbox"/>	<input type="checkbox"/>	<input checked="" type="checkbox"/>
6	<input checked="" type="checkbox"/>	<input type="checkbox"/>	<input type="checkbox"/>
7	<input type="checkbox"/>	<input type="checkbox"/>	<input type="checkbox"/>
8	<input type="checkbox"/>	<input type="checkbox"/>	<input type="checkbox"/>
9	<input type="checkbox"/>	<input type="checkbox"/>	<input type="checkbox"/>
10	<input type="checkbox"/>	<input type="checkbox"/>	<input type="checkbox"/>

MODUL de CALCUL al PUNCTAJULUI

PUNCTAJ din OFICIU	40p
PUNCTAJ SUBIECTE	$20 \times 3p = 60p$
PUNCTAJ TOTAL	100p