

Limba română




Ascultă cu atenție poezia și alege răspunsurile corecte.

Codrul geme și trosnește.
Moș Martin se răsuțește
În bârlug, pe altă parte
Și adoarme mai departe.

Iepurașul Urechiuș
N-a scos nasul din culcuș.
Chiar și vulpea cea haină
A rămas în vizuină.
Că pe-un ger așa de mare
Cui îi arde de mâncare?

- 1** Alege un titlu potrivit pentru poezie:
A) La fermă
B) Gerul
C) Noapte de vară

- 2** Ce anotimp recunoști în poezie?



- 3** Unde trăiesc animalele?
A) în pădure
B) în parc
C) la fermă

- 4** Cine locuiește în vizuină?



- 5** Cuvântul care poate avea mai multe înțelesuri este:

A HAINĂ

B IEPURAȘ

C GER

- 6** Alege cuvântul despărțit corect în silabe:

A CUL-CU-Ș

B VI-ZU-I-NĂ

C MÂNC-ARE

- 7** Alege seria de cuvinte care rimează.

A) codru - pădure

B) doarme - lucrează

C) iepuraș - fluturaș

- 8** Alege propoziția scrisă corect:

A) Iepurașul stă în culcuș.

B) Vulpia ieste haină.

C) moș Martin e somnoros.

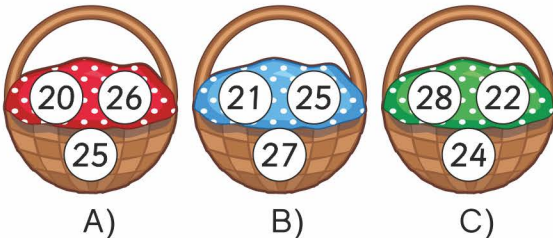


Matematică

1 Diferența dintre vecinii numărului **10** este:

A) 2 B) 20 C) 1

2 Scufița Roșie îi duce bunicii coșul pe care sunt scrise doar **numere pare**, mai mari decât **20** și mai mici decât **29**. Care este coșul?



A) B) C)

3 Completează cu semnele $+$ și $-$ astfel încât să obții rezultatul corect.

$$15 \bigcirc 10 \bigcirc 5 = 10$$

A) $+$, $-$

B) $-$, $+$

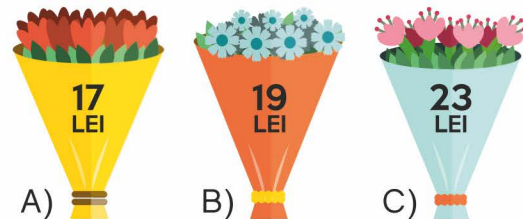
C) $-$, $-$

4 Pentru a evada de la teatru, Pinocchio trebuie să ghicească cifra de pe lacăt. Alege numerele corecte și ajută-l să scape!



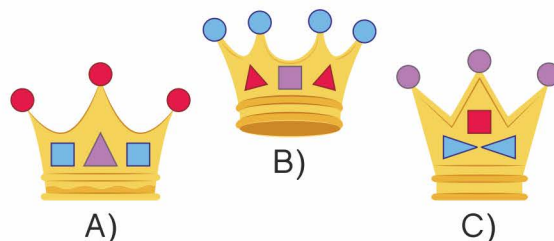
A) 12 14 B) 11 12 C) 12 13

5 Iedul cel mare a economisit **6** lei, iedul mijlociu **4** lei, iar iedul cel mic **11** lei. Alege cel mai scump buchet pe care îl pot cumpăra iezii împreună, pentru a-l dăruia mamei.



A) B) C)

6 Alege coroana lui Verde-Împărat. Ea conține **3** cercuri, un pătrat și **2** triunghiuri.

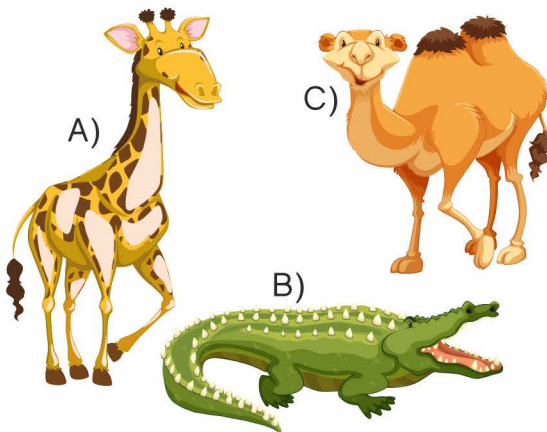


A) B) C)


Științe



1 În călătoria sa spre Labrador, pinguinul Apolodor a ajuns în deșert. Acolo s-a întâlnit cu:

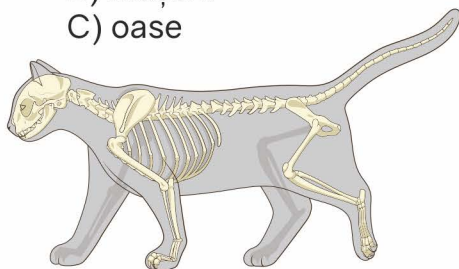


2 Alege legumele pe care le poți consuma crude.




3 Scheletul unui animal este format din:

- A) piele
- B) mușchi
- C) oase



4 Alege planta care are cea mai lungă viață.

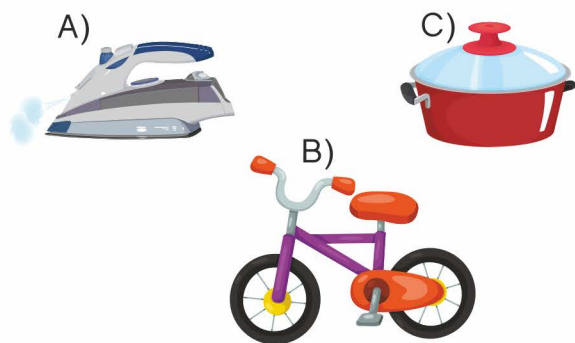


5 Nu este un sport de iarnă:



- A) hocheiul
- B) patinajul
- C) tenisul

6 Alege obiectul care funcționează cu ajutorul curentului electric.



Concursul Național "AMINTIRI din COPILĂRIE"
An școlar 2017-2018
Etapa 2 - 23 februarie



FORMULAR de EVALUARE

NUMELE

CLASA

CP I 2 3 4 A B C D E F G H

ȘCOALA

LOCALITATEA

RĂSPUNSURI

Limba română

	A	B	C
1	<input type="checkbox"/>	<input type="checkbox"/>	<input type="checkbox"/>
2	<input type="checkbox"/>	<input type="checkbox"/>	<input type="checkbox"/>
3	<input type="checkbox"/>	<input type="checkbox"/>	<input type="checkbox"/>
4	<input type="checkbox"/>	<input type="checkbox"/>	<input type="checkbox"/>
5	<input type="checkbox"/>	<input type="checkbox"/>	<input type="checkbox"/>
6	<input type="checkbox"/>	<input type="checkbox"/>	<input type="checkbox"/>
7	<input type="checkbox"/>	<input type="checkbox"/>	<input type="checkbox"/>
8	<input type="checkbox"/>	<input type="checkbox"/>	<input type="checkbox"/>
9	<input type="checkbox"/>	<input type="checkbox"/>	<input type="checkbox"/>
10	<input type="checkbox"/>	<input type="checkbox"/>	<input type="checkbox"/>

Matematică

	A	B	C
1	<input type="checkbox"/>	<input type="checkbox"/>	<input type="checkbox"/>
2	<input type="checkbox"/>	<input type="checkbox"/>	<input type="checkbox"/>
3	<input type="checkbox"/>	<input type="checkbox"/>	<input type="checkbox"/>
4	<input type="checkbox"/>	<input type="checkbox"/>	<input type="checkbox"/>
5	<input type="checkbox"/>	<input type="checkbox"/>	<input type="checkbox"/>
6	<input type="checkbox"/>	<input type="checkbox"/>	<input type="checkbox"/>
7	<input type="checkbox"/>	<input type="checkbox"/>	<input type="checkbox"/>
8	<input type="checkbox"/>	<input type="checkbox"/>	<input type="checkbox"/>
9	<input type="checkbox"/>	<input type="checkbox"/>	<input type="checkbox"/>
10	<input type="checkbox"/>	<input type="checkbox"/>	<input type="checkbox"/>

Științe

	A	B	C
1	<input type="checkbox"/>	<input type="checkbox"/>	<input type="checkbox"/>
2	<input type="checkbox"/>	<input type="checkbox"/>	<input type="checkbox"/>
3	<input type="checkbox"/>	<input type="checkbox"/>	<input type="checkbox"/>
4	<input type="checkbox"/>	<input type="checkbox"/>	<input type="checkbox"/>
5	<input type="checkbox"/>	<input type="checkbox"/>	<input type="checkbox"/>
6	<input type="checkbox"/>	<input type="checkbox"/>	<input type="checkbox"/>
7	<input type="checkbox"/>	<input type="checkbox"/>	<input type="checkbox"/>
8	<input type="checkbox"/>	<input type="checkbox"/>	<input type="checkbox"/>
9	<input type="checkbox"/>	<input type="checkbox"/>	<input type="checkbox"/>
10	<input type="checkbox"/>	<input type="checkbox"/>	<input type="checkbox"/>

Etapa II



2018
februarie

CLASA CP 1 2 3 4

RĂSPUNSURI

Limba română	Matematică	Științe
1 A B C	1 A B C	1 A B C
2 A B C	2 A B C	2 A B C
3 A B C	3 A B C	3 A B C
4 A B C	4 A B C	4 A B C
5 A B C	5 A B C	5 A B C
6 A B C	6 A B C	6 A B C
7 A B C	7 A B C	7 A B C
8 A B C	8 A B C	8 A B C
9 A B C	9 A B C	9 A B C
10 A B C	10 A B C	10 A B C

MODUL de CALCUL al PUNCTAJULUI

PUNCTAJ din OFICIU	40p
PUNCTAJ SUBIECTE	$20 \times 3p = 60p$
PUNCTAJ TOTAL	100p