

Limba română



Citește cu atenție textul și alege răspunsurile corecte.

- Odată, se întâlnește cucul cu un mierloiu scăpat din colivie.
– Bine te-am întâlnit, zise cucul vesel către mierloiu. Ia spune-mi, ce zice lumea de cântecele noastre?
– Numai bine, zise mierloiu.
– De privighetoare ce zice?
– Hm, pe ea o laudă toată lumea.
– Toată lumea? Dar pe ciocârlie?
– Și pe ea o laudă lumea, dar cam pe jumătate.
– Pe jumătate! Dar pe voi, mierlele?
– Ei, și pe noi ne vorbește de bine, dar, știi, mai rar, din când în când...







- | | |
|--|--|
| <p>1 Fragmentul citit face parte:
A) dintr-un bilet
B) dintr-o invitație
C) dintr-o poveste</p> | <p>6 Expresia "ne vorbește de bine" poate fi înlocuită în text cu:
A) "ne ajută"
B) "ne laudă"
C) "ne strigă"</p> |
| <p>2 Textul prezintă dialogul dintre:
A) un cuc și o ciocârlie
B) un cuc și un mierloiu
C) un mierloiu și o ciocârlie</p> | <p>7 Enunțul "– Bine te-am întâlnit!" exprimă:
A) o mirare
B) o urare
C) un salut</p> |
| <p>3 Întâlnirea cu mierloiu:
A) îl bucură pe cuc
B) îl întristează pe cuc
C) îl supără pe cuc</p> | <p>8 Alege seria de cuvinte scrise corect.
A) privighetoare, ciocârlie, zice
B) ceocârlie, cîntece, lumea
C) lumia, vorbește, merloiu</p> |
| <p>4 Cea mai lăudată pasăre este:
A) ciocârlia
B) mierla
C) privighetoarea</p> | <p>9 Alege seria de cuvinte cu înțeles opus.
A) spune – zice
B) colivie – cușcă
C) bine – rău</p> |
| <p>5 Cucul se arată a fi:
A) curios
B) curajos
C) nepăsător</p> | <p>10 Alege cuvântul format din 3 silabe, 3 vocale și 2 consoane.
A) cântece
B) laudă
C) colivie</p> |



Matematică

"Copiii iubesc sportul!" este numele proiectului pe care îl face Delia, o elevă din clasa a II-a. În urma unui sondaj desfășurat în școala ei, Delia a centralizat răspunsurile colegilor și a obținut rezultatele din tabelul de mai jos.

TENIS	CICLISM	PATINAJ	BASCHEȚ
			
36	21	25	14

1 Câți copii au răspuns la sondaj?
A) **96** B) **86** C) **97**

2 Alege sportul al cărui număr se rotunjește la **30**.
A) tenis
B) ciclism
C) patinaj

3 Calculează împărțitul lui **9**.
Vei obține numărul sportului:
A) baschet
B) tenis
C) ciclism

4 Câți copii preferă sporturile în care se folosește mingea?
A) **50** B) **40** C) **14**

5 Adună răsturnatul numărului cel mai mare de copii cu **succesorul** numărului cel mai mic de copii. Câți ai obținut?
A) **50** B) **93** C) **78**

6 Ce număr ascunde casca de protecție?

$$3 \times \text{casca} = 21$$

A) **7** B) **8** C) **6**

7 O lecție de patinaj durează o oră și jumătate. La ce oră a început lecția încheiată la ora **16:00**?

A) **15:30** B) **14:30** C) **17:30**

8 Mingea de tenis are formă de:
A) cuboid
B) cilindru
C) sferă

9 O echipă de baschet are **5** jucători și **2** rezerve. Câte echipe pot forma cei **14** copii?
A) **3** B) **2** C) **1**

10 O bicicletă costă **82** de lei. Delia are în pușculiță **9** bancnote de **5** lei. De câți lei mai are nevoie pentru a cumpăra bicicleta?
A) **37** lei B) **47** lei C) **38** lei

Științe



- 1** Omul nu poate trăi fără plante pentru că:
A) sunt foarte frumoase
B) produc oxigen
C) asigură umbră și răcoare

- 2** Păstaia este:
A) un fruct
B) o frunză
C) o floare

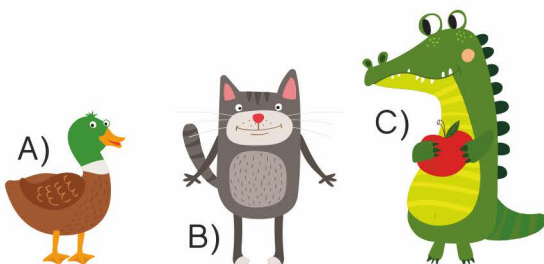


- 3** Fructele și legumele sunt benefice sănătății deoarece conțin:
A) zahăr
B) coloranți
C) vitamine



- 4** Stejarul este:
A) un animal
B) un arbore
C) o pasăre

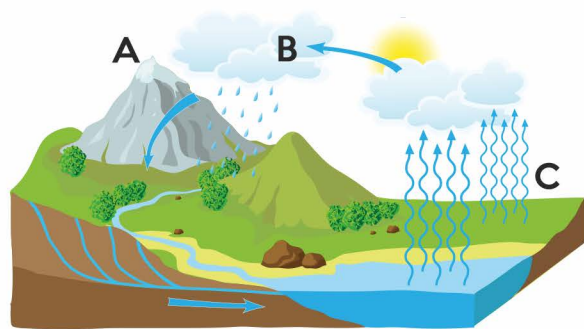
- 5** Își hrănește puiul cu lapte:



- 6** În apa bălților trăiesc:
A) delfini și pinguini
B) găini și curcani
C) șerpi și raci

- 7** Cutia toracică protejează:
A) plămâni și inima
B) stomacul și rinichii
C) creierul

- 8** Procesul de condensare a apei este ilustrat la punctul:



- 9** Este o sursă de lumină artificială:
A) farul unei mașini
B) un licurici din pădure
C) un foc de tabără

- 10** Centralele eoliene folosesc:
A) energia apei
B) energia solară
C) energia vântului

Concursul Național "AMINTIRI din COPILĂRIE"
An școlar 2017-2018
Etapa 2 - 23 februarie



FORMULAR de EVALUARE

NUMELE

CLASA CP I 2 3 4 A B C D E F G H

ȘCOALA

LOCALITATEA

RĂSPUNSURI

Limba română			
	A	B	C
1	<input type="text"/>	<input type="text"/>	<input type="text"/>
2	<input type="text"/>	<input type="text"/>	<input type="text"/>
3	<input type="text"/>	<input type="text"/>	<input type="text"/>
4	<input type="text"/>	<input type="text"/>	<input type="text"/>
5	<input type="text"/>	<input type="text"/>	<input type="text"/>
6	<input type="text"/>	<input type="text"/>	<input type="text"/>
7	<input type="text"/>	<input type="text"/>	<input type="text"/>
8	<input type="text"/>	<input type="text"/>	<input type="text"/>
9	<input type="text"/>	<input type="text"/>	<input type="text"/>
10	<input type="text"/>	<input type="text"/>	<input type="text"/>

Matematică			
	A	B	C
1	<input type="text"/>	<input type="text"/>	<input type="text"/>
2	<input type="text"/>	<input type="text"/>	<input type="text"/>
3	<input type="text"/>	<input type="text"/>	<input type="text"/>
4	<input type="text"/>	<input type="text"/>	<input type="text"/>
5	<input type="text"/>	<input type="text"/>	<input type="text"/>
6	<input type="text"/>	<input type="text"/>	<input type="text"/>
7	<input type="text"/>	<input type="text"/>	<input type="text"/>
8	<input type="text"/>	<input type="text"/>	<input type="text"/>
9	<input type="text"/>	<input type="text"/>	<input type="text"/>
10	<input type="text"/>	<input type="text"/>	<input type="text"/>

Științe			
	A	B	C
1	<input type="text"/>	<input type="text"/>	<input type="text"/>
2	<input type="text"/>	<input type="text"/>	<input type="text"/>
3	<input type="text"/>	<input type="text"/>	<input type="text"/>
4	<input type="text"/>	<input type="text"/>	<input type="text"/>
5	<input type="text"/>	<input type="text"/>	<input type="text"/>
6	<input type="text"/>	<input type="text"/>	<input type="text"/>
7	<input type="text"/>	<input type="text"/>	<input type="text"/>
8	<input type="text"/>	<input type="text"/>	<input type="text"/>
9	<input type="text"/>	<input type="text"/>	<input type="text"/>
10	<input type="text"/>	<input type="text"/>	<input type="text"/>

Etapa II



2018
februarie

CLASA CP I 2 3 4

RĂSPUNSURI

Limba română			
	A	B	C
1	<input type="checkbox"/>	<input type="checkbox"/>	<input checked="" type="checkbox"/>
2	<input type="checkbox"/>	<input checked="" type="checkbox"/>	<input type="checkbox"/>
3	<input checked="" type="checkbox"/>	<input type="checkbox"/>	<input type="checkbox"/>
4	<input type="checkbox"/>	<input type="checkbox"/>	<input checked="" type="checkbox"/>
5	<input checked="" type="checkbox"/>	<input type="checkbox"/>	<input type="checkbox"/>
6	<input type="checkbox"/>	<input checked="" type="checkbox"/>	<input type="checkbox"/>
7	<input type="checkbox"/>	<input type="checkbox"/>	<input checked="" type="checkbox"/>
8	<input checked="" type="checkbox"/>	<input type="checkbox"/>	<input type="checkbox"/>
9	<input type="checkbox"/>	<input type="checkbox"/>	<input checked="" type="checkbox"/>
10	<input type="checkbox"/>	<input checked="" type="checkbox"/>	<input type="checkbox"/>

Matematică			
	A	B	C
1	<input checked="" type="checkbox"/>	<input type="checkbox"/>	<input type="checkbox"/>
2	<input type="checkbox"/>	<input type="checkbox"/>	<input checked="" type="checkbox"/>
3	<input type="checkbox"/>	<input checked="" type="checkbox"/>	<input type="checkbox"/>
4	<input checked="" type="checkbox"/>	<input type="checkbox"/>	<input type="checkbox"/>
5	<input type="checkbox"/>	<input type="checkbox"/>	<input checked="" type="checkbox"/>
6	<input checked="" type="checkbox"/>	<input type="checkbox"/>	<input type="checkbox"/>
7	<input type="checkbox"/>	<input checked="" type="checkbox"/>	<input type="checkbox"/>
8	<input type="checkbox"/>	<input type="checkbox"/>	<input checked="" type="checkbox"/>
9	<input type="checkbox"/>	<input checked="" type="checkbox"/>	<input type="checkbox"/>
10	<input checked="" type="checkbox"/>	<input type="checkbox"/>	<input type="checkbox"/>

Științe			
	A	B	C
1	<input type="checkbox"/>	<input checked="" type="checkbox"/>	<input type="checkbox"/>
2	<input checked="" type="checkbox"/>	<input type="checkbox"/>	<input type="checkbox"/>
3	<input type="checkbox"/>	<input type="checkbox"/>	<input checked="" type="checkbox"/>
4	<input type="checkbox"/>	<input checked="" type="checkbox"/>	<input type="checkbox"/>
5	<input type="checkbox"/>	<input checked="" type="checkbox"/>	<input type="checkbox"/>
6	<input type="checkbox"/>	<input type="checkbox"/>	<input checked="" type="checkbox"/>
7	<input checked="" type="checkbox"/>	<input type="checkbox"/>	<input type="checkbox"/>
8	<input type="checkbox"/>	<input checked="" type="checkbox"/>	<input type="checkbox"/>
9	<input checked="" type="checkbox"/>	<input type="checkbox"/>	<input type="checkbox"/>
10	<input type="checkbox"/>	<input type="checkbox"/>	<input checked="" type="checkbox"/>

MODUL de CALCUL al PUNCTAJULUI

PUNCTAJ din OFICIU	40p
PUNCTAJ SUBIECTE	$30 \times 2p = 60p$
PUNCTAJ TOTAL	100p