

Limba română



Haideți să ne împrietenim! Mă numesc Cristian Creion și vă invit la un atelier de lectură în cadrul căruia voi citi poezii din cartea mea pentru copii, intitulată *Regele pinguin* și publicată la Editura Carioca. Dacă aveți acasă costume sau măști de pinguin, veniți cu ele. Dacă scrieți și voi poezii, m-aș bucura să le citim împreună.

Evenimentul va avea loc sâmbătă, 18 noiembrie 2017, începând cu ora 10:00, la Librăria Bucuria din Craiova. Intrarea este gratuită și niciun participant nu va pleca fără un cadou-surpriză.

Cu drag,
Cristian Creion

- 1 Aceasta este:
A) o poezie B) o invitație C) o poveste

- 2 Textul este semnat de:
A) Cristian Creion B) Librăria Bucuria C) Editura Carioca

- 3 Copiii sunt așteptați la:
A) o aniversare B) un muzeu C) un atelier de lectură

- 4 Cartea pentru copii se numește:
A) Pinguinul B) Regele pinguin C) Regele cerb

- 5 Când va avea loc evenimentul?
A) duminică la ora 10:00
B) sâmbătă dimineața
C) în fiecare zi a săptămânii

- 6 Ce primesc participanții?
A) costume de pinguin B) poezii C) daruri

- 7 Textul începe cu:
A) o exclamație B) o constatare C) o întrebare

- 8 Seria în care toate cuvintele au trei silabe este:
A) atelier, costume, măști
B) lectură, pinguin, acasă
C) bucurie, intrare, cadou

- 9 Găsește seria în care sunt cuvinte cu sens opus:
A) intrare, ieșire B) prieteni, amici C) bucurie, fericire

- 10 Alintă cuvântul creion:
A) creioane B) carioca C) creionaș



Matematică

Fă cunoștință cu trei pirați simpatici și descoperă comorile lor.



- 1** Alege seria aranjată în ordine descrescătoare.
A) B) C)
- 2** Câte comori au adunat pirații împreună?
A) **83** B) **93** C) **94**
- 3** Alege pirații ale căror comori se rotunjesc la **30**.
A) Pedro și Zora B) Sam și Zora C) Sam, Pedro și Zora
- 4** Are comoara cu cifra zecilor mai mare decât cifra unităților.
A) Sam B) Pedro C) Zora
- 5** Ce număr ascunde moneda de aur?
A) **22** B) **32** C) **98** **38 + = 60**
- 6** Pe corabia piraților se află **32** de saci cu făină de grâu și cu **17** mai puțini saci cu mălai. Câți saci transportă corabia în total?
A) **15** B) **47** C) **49**
- 7** Pirații au plecat din port către insula lor la ora **18:00**.
La ce oră au ajuns pe insulă, ținând cont că au navigat **3** ore?
A) la ora **15:00** B) la ora **22:00** C) la ora **21:00**
- 8** Alege obiectul cu formă de cilindru.
A) B) C)
- 9** Scade din cel mai mare număr par format din două cifre identice răsturnatul comorii lui Sam. Ce rezultat ai obținut?
A) **53** B) **45** C) **35**
- 10** Acum zece ani, suma vârstelor celor trei pirați era egală cu **65**.
Câți ani au împreună cei trei în prezent?
A) **75** B) **95** C) **55** de ani

Concursul Național "AMINTIRI din COPILĂRIE"
An școlar 2017-2018
Etapa I - 10 noiembrie

Științe




1 Hrănește planta cu substanțele nutritive din pământ.
A) rădăcina B) tulpina C) frunzele



2 Soarele este...
A) o flacără uriașă B) o planetă C) o stea

3 Se deplasează cu ajutorul înotătoarelor.
A) găina
B) rechinul
C) broasca

4 Creierul este protejat de...
A) cutia craniană
B) coaste
C) gât



5 Ce se va întâmpla cu apa din ceainic?
A) se va topi B) se va condensa C) se va evapora



6 Cad din același loc. Care va ajunge mai repede pe pământ?
A) un măr B) o frunză C) o omidă

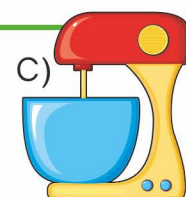
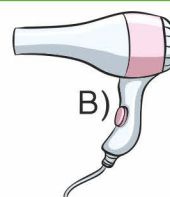
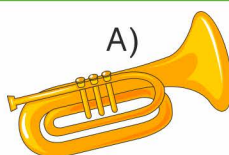
7 Nu am formă, nici culoare,
Dar înalț zmee spre soare!
A) apa
B) vântul
C) vrăbiuța

8 Ce-i lipsește unui fluture închis
în borcan pentru a supraviețui?
A) lumina
B) căldura
C) aerul



9 Poți observa electricitatea
atunci când apare pe cer...
A) curcubeul
B) fulgerul
C) luna

10 Produce sunete
melodioase.



Concursul Național "AMINTIRI din COPILĂRIE"
An școlar 2017-2018
Etapa I - 10 noiembrie

CLASA CP I 2 3 4

RĂSPUNSURI

Limba română			
	A	B	C
1	<input type="checkbox"/>	<input checked="" type="checkbox"/>	<input type="checkbox"/>
2	<input checked="" type="checkbox"/>	<input type="checkbox"/>	<input type="checkbox"/>
3	<input type="checkbox"/>	<input type="checkbox"/>	<input checked="" type="checkbox"/>
4	<input type="checkbox"/>	<input checked="" type="checkbox"/>	<input type="checkbox"/>
5	<input type="checkbox"/>	<input checked="" type="checkbox"/>	<input type="checkbox"/>
6	<input type="checkbox"/>	<input type="checkbox"/>	<input checked="" type="checkbox"/>
7	<input checked="" type="checkbox"/>	<input type="checkbox"/>	<input type="checkbox"/>
8	<input type="checkbox"/>	<input checked="" type="checkbox"/>	<input type="checkbox"/>
9	<input checked="" type="checkbox"/>	<input type="checkbox"/>	<input type="checkbox"/>
10	<input type="checkbox"/>	<input type="checkbox"/>	<input checked="" type="checkbox"/>

Matematică			
	A	B	C
1	<input type="checkbox"/>	<input type="checkbox"/>	<input checked="" type="checkbox"/>
2	<input type="checkbox"/>	<input checked="" type="checkbox"/>	<input type="checkbox"/>
3	<input checked="" type="checkbox"/>	<input type="checkbox"/>	<input type="checkbox"/>
4	<input type="checkbox"/>	<input type="checkbox"/>	<input checked="" type="checkbox"/>
5	<input checked="" type="checkbox"/>	<input type="checkbox"/>	<input type="checkbox"/>
6	<input type="checkbox"/>	<input checked="" type="checkbox"/>	<input type="checkbox"/>
7	<input type="checkbox"/>	<input type="checkbox"/>	<input checked="" type="checkbox"/>
8	<input checked="" type="checkbox"/>	<input type="checkbox"/>	<input type="checkbox"/>
9	<input type="checkbox"/>	<input type="checkbox"/>	<input checked="" type="checkbox"/>
10	<input type="checkbox"/>	<input checked="" type="checkbox"/>	<input type="checkbox"/>

Științe			
	A	B	C
1	<input checked="" type="checkbox"/>	<input type="checkbox"/>	<input type="checkbox"/>
2	<input type="checkbox"/>	<input type="checkbox"/>	<input checked="" type="checkbox"/>
3	<input type="checkbox"/>	<input checked="" type="checkbox"/>	<input type="checkbox"/>
4	<input checked="" type="checkbox"/>	<input type="checkbox"/>	<input type="checkbox"/>
5	<input type="checkbox"/>	<input type="checkbox"/>	<input checked="" type="checkbox"/>
6	<input checked="" type="checkbox"/>	<input type="checkbox"/>	<input type="checkbox"/>
7	<input type="checkbox"/>	<input checked="" type="checkbox"/>	<input type="checkbox"/>
8	<input type="checkbox"/>	<input type="checkbox"/>	<input checked="" type="checkbox"/>
9	<input type="checkbox"/>	<input checked="" type="checkbox"/>	<input type="checkbox"/>
10	<input checked="" type="checkbox"/>	<input type="checkbox"/>	<input type="checkbox"/>

MODUL de CALCUL al PUNCTAJULUI

PUNCTAJ din OFICIU	40p
PUNCTAJ SUBIECTE	$30 \times 2p = 60p$
PUNCTAJ TOTAL	100p